

۱- گزینه درست را با علامت تیک مشخص کنید.

الف) ورزش و تفریح در کدام یک از مکان های عمومی برگزار می شود؟

ا) مسجد (۲) پارک (۳) مدرسه (۴) مجتمع فرهنگی و هنری

ب) اداره شهر بر عهد چه کسی است؟

۱) دهیار (۲) شورا (۳) شهردار (۴) بخشدار

ج) کدام رشته کوه در شرق قرار دارد؟

۱) البرز (۲) زاگرس (۳) دنا (۴) سلیمان

د) هخامنشیان چند سال بر ایران حکومت کردند؟

۱) ۵۰۲ (۲) ۱۰۰ (۳) ۱۵۰ (۴) ۲۰۰

۲- درست یا نادرست بودن جمله های زیر را مشخص کنید.

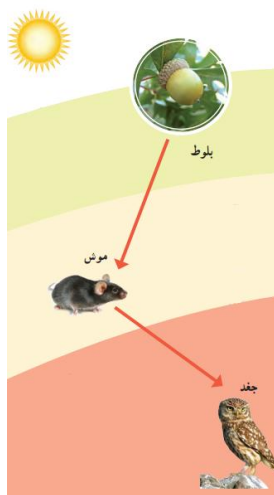
الف) کشور ایران ۲۸ استان دارد.

ب) سال ایرانی از روزاول فروردین آغاز می شود و در آخرین روز اسفندبه پایان می رسد.

ج) کتاب مقدس زرتشتیان انجیل است.

د) اولین ابزارهای انسان بیشتر چوب بود.

۴- تصویر رو به رو چه چیزی را نشان می دهد.



الف) در این زیستگاه موش دانه ی بلوط را می خورد و جغد موش را می خورد.

حال اگر در این ناحیه گیاه بلوط از بین برود چه اتفاقی می افتد؟

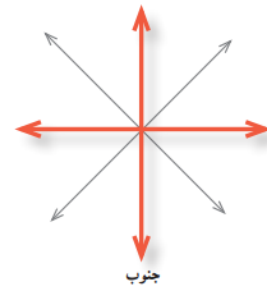
۵- در تصاویر رو به رو مکان خواسته شده را روی شکل نشان دهید؟



قطب شمال، قطب جنوب



قله



جهت های اصلی و فرعی  
جغرافیایی

۶- در جاهای خالی کلمه مناسب بنویسید.

الف) پولی که از راه کارکردن به دست می آید..... می گویند  
ب) وسیله ای که جهت قطب شمال و جنوب زمین را نشان می دهد..... است  
ج) بهشش گیاهی مناطق گرم و خشک ..... و در آن گیاهانی می رویند که درمقابل کم آبی مقاوم هستند  
د) به شن و ماسه و گل ولایی که رودها همراه خود می برند..... می گویند

۷- به سوالات زیر پاسخ کوتاه دهید

الف) معمولا اشیاء و آثار تاریخی را کجانبه داری می کنند؟  
ب) اولین گروه از آریایی ها که پس از ورود به ایران حکومت تشکیل دادند چه نام دارند؟  
ج) تخت جمشید به فرمان چه کسی ساخته شد؟

۸- به سوالات زیر با دقت پاسخ دهید


الف) در مسجد معمولا چه کارهایی انجام و چه مراسمی برگزار می شود؟

ب) سه پایه ی اصلی دین زرتشت را نام ببرید؟

ج) جلگه چگونه به وجود می آید؟

د) نام ناحیه آب و هوایی هر تصویر را بنویسید.

# جزوه سیتی



ه) روز جمعه مخصوص چه کارهایی هست؟

ی) چرا عید نوروز تعطیل است؟ در تعطیلات نوروزی مردم چه کارهایی انجام می دهند؟

به نام خدا

## سارا معصوم زاده، پاسخ تشریحی مطالعات اجتماعی چهارم دبستان

۱- الف) پاسخ: گزینه «۲»: مردم برای استراحت و ورزش به بوستان یا فضای سبز می روند. برخی از بوستان ها، وسایل بازی و ورزش مخصوص کودکان هم دارند. (اینجا محله ماست، صفحه ۶ کتاب درسی)

ب) پاسخ: گزینه «۳»: اداره شهر را شهرداری به عهده دارد. (زندگی در شهر و روستا، صفحه ۲۱ کتاب درسی)

ج) پاسخ: گزینه «۴»: رشته کوه سلیمان در شرق قرار دارد.

مهم: البرز رشته کوه بسیار بلندی است که در شمال ایران کشیده شده است. رشته کوه زاگرس در مغرب و جنوب غربی ایران قرار دارد. دنا در قسمت داخلی ایران است. (کوه ها و دشت های زیبا، صفحه ۷۰ کتاب درسی)

د) پاسخ: گزینه «۴»: هخامنشیان بیش از دویست سال بر ایران حکومت کردند.

(سفری به تخت جمشید ۲، صفحه ۵۶ کتاب درسی)

۲- الف) نادرست (ایران ۳۱ استان دارد) (زندگی در شهر و روستا، صفحه ۲۳)

ب) درست (سال ایرانی (هجری شمسی) از روز اول فروردین (نوروز) آغاز می شود.

(نشانه های ملی ما، صفحه ۹۲ کتاب درسی)

ج) نادرست (کتاب مقدس زرتشتیان اوستا نام دارد). (سفری به شهر باستانی کرمانشاه، صفحه ۶۲ کتاب درسی)

د) نادرست (اولین ابزارهای انسان، بیشتر سنگی بودند). نخستین روستاها چگونه به وجود آمدند؟

(صفحه ۳۳ کتاب درسی)

۴- هر موجود زنده ای در ناحیه ی خاصی زندگی می کند که زیستگاه آن موجود نام دارد. گیاهان و جانورانی که در یک زیستگاه مشترک زندگی می کنند، برای ادامه ی زندگی خود به یکدیگر وابسته اند. گیاهان مثل بلوط غذای خود را با استفاده از نور خورشید، خاک، آب و هوا درست می کنند. برخی از جانوران مثل موش گیاهانی مانند بلوط را می خورند که به آنها گیاه خوار می گوئیم. برخی از آنها مثل جغد جانوران دیگر مانند موش را می خورند که به آنها گوشت خوار می گوئیم. (از محیط زیست مراقبت کنیم، صفحه ۸۴ کتاب درسی)

الف) از آنجایی که جانداران برای ادامه ی زندگی خود به یکدیگر وابسته اند، اگر در یک زیستگاه، به یک موجود زنده آسیب برسد، گیاهان و جانوران دیگر هم آسیب می بینند. برای مثال اگر گیاه بلوط از بین برود، موش که از آن تغذیه می کند، ممکن است با کمبود غذا رو به رو شود. در نتیجه، جانورانی مثل جغد که از آن موش تغذیه می کنند نیز برای تامین غذای خود دچار مشکل می شوند. (از محیط زیست مراقبت کنیم، صفحه ۸۵ کتاب درسی)

۵- جهت های اصلی و فرعی جغرافیایی (از جنوب در جهت عقربه های ساعت): جنوب غربی، مغرب، شمال غربی،

شمال، شمال شرقی، مشرق، جنوب شرقی (جهت های جغرافیایی، صفحه ۲۷ کتاب درسی)

قله: بالاترین جای کوه، قله ی آن است. (کوه ها و دشت های زیبا، صفحه ۶۷ کتاب درسی)

قطب شمال، قطب جنوب: بالاترین نقطه روی کره قطب شمال است و به پایین ترین نقطه ی زمین که روبه روی قطب

شمال قرار دارد، قطب جنوب می گویند. (جهت های جغرافیایی، صفحه ۲۵ کتاب درسی)

۶- الف) درآمد (خرید و فروش در محله، صفحه ۱۰ کتاب درسی)

ب) قطب نما (جهت های جغرافیایی، صفحه ۲۶ کتاب درسی)

ج) فقیر است (پوشش گیاهی و زندگی جانوری در ایران، صفحه ۸۰ کتاب درسی)

د) آبرفت (کوه ها و دشت های زیبا، صفحه ۶۸ کتاب درسی)

۷- الف) موزه ها (مورخان چگونه گذشته را مطالعه می کنند؟، صفحه ۴۲ کتاب درسی)

ب) مادها (سفری به شهر باستانی همدان، صفحه ۴۷ کتاب درسی)

ج) داریوش اول (سفری به تخت جمشید ۱، صفحه ۵۲ کتاب درسی)

۸- الف) یکی از محل های اجتماع مردم در محله، مسجد است. مردم در مسجد علاوه بر عبادت خدا با یکدیگر آشنا

می شوند، از حال هم خبر می گیرند و برای حل مشکلات محله ی خود با یکدیگر مشورت می کنند. مسجد همچنین

محل برگزاری مراسمی چون دعا، عزاداری و جشن های مربوط به عیدهای مذهبی است. (اینجا محله ی ماست،

صفحه ۶ کتاب درسی)

ب) پندار نیک، گفتار نیک و کردار نیک (سفری به شهر باستانی کرمانشاه، صفحه ۶۲ کتاب درسی)

ج) وقتی رودها به طرف دریا می روند، آبرفت فراوانی را که با خود آورده اند، در نزدیکی دریا ته نشین می کنند.

این آبرفت ها روی هم انباشته می شوند و پس از سال ها جلگه را به وجود می آورند. (کوه ها و دشت های زیبا،

صفحه ۶۸ کتاب درسی)

ر) ۱- ناحیه معتدل و مرطوب خزری

۲- ناحیه گرم و خشک

۳- ناحیه گرم و شرجی جنوب

(پوشش گیاهی و زندگی جانوری در ایران، صفحه ۸۳ کتاب درسی)

ه) در این روز، مردم به نماز جمعه می روند، به خویشان و دوستان خود سر می زنند و از بیماران عیادت می کنند. در روزهای جمعه بچه ها با پدر و مادرهایشان در خانه ی پدربزرگ ها و مادربزرگ ها جمع می شوند. گاهی هم دسته جمعی به بوستان ها یا گردشگاه های بیرون از شهر می روند و ساعت هایی را در کنار هم به استراحت و تفریح می گذرانند. (تقویم، صفحه ۹۲ کتاب درسی)

ی) در زمان های گذشته در چنین روزهایی اتفاق های مهمی افتاده است. به همین دلیل، مردم هر سال در این روزها مراسم خاصی برگزار می کنند و آن اتفاق های مهم را به یاد می آورند. نوروز به مناسبت ملی تعطیل است. عید نوروز آغاز سال نو است. مردم ایران در این روز مراسم خاصی برگزار می کنند و جشن می گیرند. دید و بازدید و عیدی گرفتن از مراسم نوروز است. (روزهای مهم، صفحه ۹۵ و ۹۶ کتاب درسی)

# جزوه سیپی